





Pràctica 10



Les següents imatges corresponen a sons amb diferent mode d'articulació o grau d'impediment de la sortida de l'aire. Estableix relacions entre els elements de les tres columnes, tenint en compte que a la columna B hauràs de classificar les imatges de la columna A en funció del grau d'impediment que consideres que hi ha, essent 1 l'impediment més fort, i 4 el més lleu:

A Configuració articulatòria	B Grau d'impediment del pas de l'aire (1 = impediment més fort)	C Tipus de so
a) 	1	Aproximant
b) 	2	Vocal
c) 	3	Oclusiva
d) 	4	Fricativa